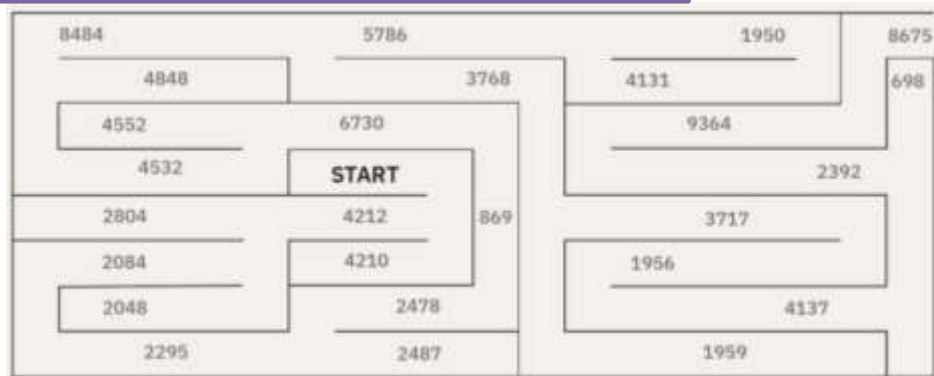


BREZ MUJE SE ŠE ČEVELJ NE OBUJE!

RAČUNAJ PISNO V ZVEZEK.

REZULTATI TE VODIJO SKOZI LABIRINT.

- a) $702 \cdot 6$
- b) $521 \cdot 4$
- c) $765 \cdot 3$
- d) $354 \cdot 7$
- e) $1346 \cdot 5$
- f) $1133 \cdot 4$
- g) $2828 \cdot 3$
- h) $942 \cdot 4$
- i) $413 \cdot 9$
- j) $326 \cdot 6$
- k) $591 \cdot 7$



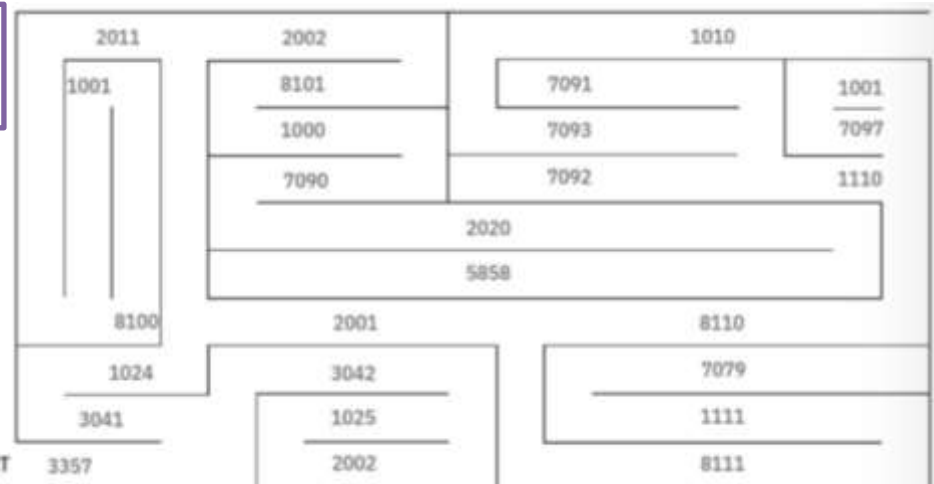
RAČUNAJ PISNO V ZVEZEK, KOT KAŽE REŠEN PRIMER. ZA VSAK ZAPISANI RAČUN NAREDI DVA PISNA RAČUNA.

REZULTATI TE VODIJO SKOZI LABIRINT.

- a) $5746 - 3242 + 853$
- b) $6475 - 5353 + 1919$
- c) $4657 + 3637 - 7270$
- č) $3145 + 916 - 2060$
- d) $7676 - 553 + 987$
- e) $2154 + 3167 - 4211$
- f) $6756 - 3355 + 3692$
- g) $368 + 2552 - 1910$


5	7	4	6	
-	3	2	4	2
2	5	0	4	
2	5	0	4	
+	8	5	3	
3	3	5	7	

START



RAČUNAJ PISNO V ZVEZEK. PAZI NA MATEMATIČNI SIMBOL. NATO POVEŽI PIKE S KONČNIMI REZULTATI. KAJ SI NARISAL/-A?

- a) Izračunaj vsoto števil 6435, 2177 in 232.
- b) Od vsote števil 5182 in 2735 odštej 7707.
- c) Prvi seštevanec je 456, vsota je 5566. Koliko je drugi seštevanec?
- č) Odštevanec je 3234, razlika je 3378. Koliko je zmanjševanec?
- d) Razliki števil 5735 in 4433 prištej 2992.
- e) Vsoti števil 4617 in 748 prištej 1234.
- f) Izračunaj razliko števil 9876 in 9666.



UGOTOVI ŠTEVILKE, KI JIH PREDSTAVLJAJO ZNAKI.

