

# 1. IZRAČUNAJ!

$9 - 7 + 8 =$

$8 - 8 + 9 =$

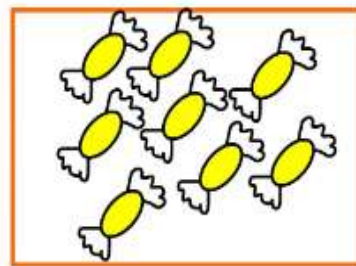

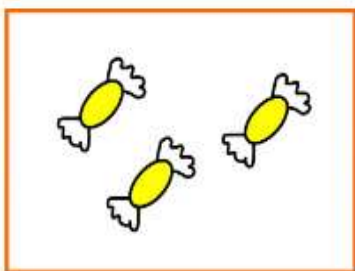
$6 + 2 - 8 =$

$5 + 4 - 5 =$


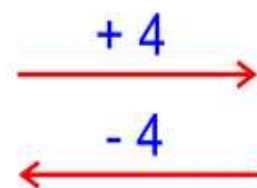

$3 + 3 - 5 =$

$4 + 6 - 7 =$

## 2. DOBRO SI OGLEDJ SPODNJI SLIKI IN DOPOLNI ZAPISA POD SLIKAMA.





$3 + 5 =$  \_\_\_\_\_ , KER JE \_\_\_\_\_



\_\_\_\_\_ , KER JE \_\_\_\_\_

### 3. IZRAČUNAJ PO ZGLEDU.

$1 + 1 + 6 =$  2	$10 - 8 + 3 =$  2
$3 + 3 + 3 =$	$7 - 4 + 5 =$
$3 + 1 + 7 =$	$5 - 0 + 5 =$
$5 + 2 + 2 =$	$8 - 4 + 6 =$

### 4. BESEDILNE NALOGE

OD ŠTEVILA 13 ODVZEMI 7, NATO DODAJ 9. KOLIKO DOBIŠ?

R: \_\_\_\_\_

O: \_\_\_\_\_

NA PARKIRIŠČU JE BILO 16 AVTOMOBILOV, ODPELJALO JE 7 AVTOMOBILOV. KOLIKO AVTOMOBILOV JE NA PARKIRIŠČU?

R: \_\_\_\_\_

O: \_\_\_\_\_

MATIJA JE IMEL 13 METROV VRVICE. KOLIKO VRVICE JE DAL PRIJATELJU,  
DA MU JE OSTALO ŠE 8 METROV VRVICE?

R: \_\_\_\_\_

O: \_\_\_\_\_

V PRVI KOŠARI JE 11 JAJC. V DRUGI KOŠARI JE 8 JAJC. KOLIKO JAJC JE V  
OBEH KOŠARAH SKUPAJ?



RAČUN: \_\_\_\_\_

ODGOVOR: \_\_\_\_\_

\_\_\_\_\_

MARJETKA JE NABRALA 12 ZVONČKOV, BINE PA 4. KOLIKO ZVONČKOV STA  
NABRALA OTROKA?

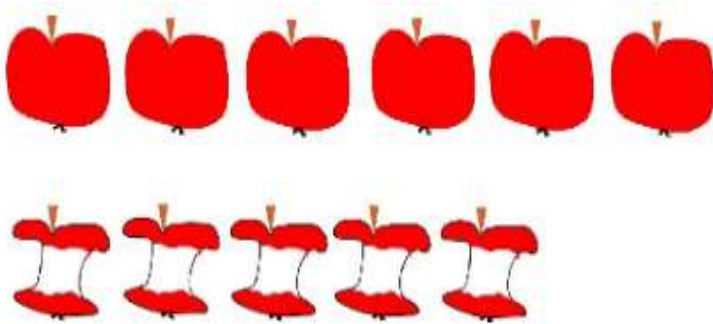
RAČUN: \_\_\_\_\_

ODGOVOR: \_\_\_\_\_

\_\_\_\_\_

## 5. MALO DALJŠA BESEDILNA NALOGA

OGLEJ SI SLIKO, NATO PA ODGOVORI NA VPRAŠANJA OZIROMA DOPOLNI POVEDI.



KOLIKO JABOLK IMAMO? \_\_\_\_\_

KOLIKO JABOLK SMO ŽE POJEDLI? \_\_\_\_\_

KOLIKO JABOLK SMO IMELI NA ZAČETKU? \_\_\_\_\_ + \_\_\_\_\_ = \_\_\_\_\_

NA ZAČETKU SMO TOREJ IMELI \_\_\_\_\_ JABOLK.

\_\_\_\_\_ JABOLK SMO ŽE POJEDLI.

KOLIKO JABOLK NAM JE ŠE OSTALO?

\_\_\_\_\_ - \_\_\_\_\_ = \_\_\_\_\_

OSTALO NAM JE ŠE \_\_\_\_\_ JABOLK.

