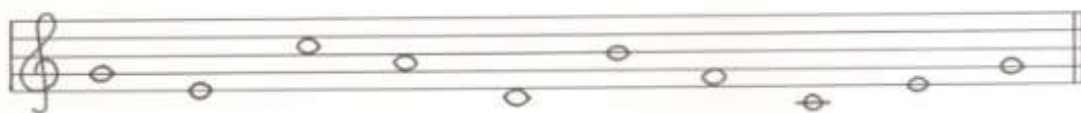


GLASBENA UMETNOST – 6. teden

V tem tednu boš s pomočjo spodnjih nalog utrdil/-a solmizacijske zloge, notna trajanja in pavze. Če imaš možnost, naloge natisni in jih reši. Drugače pa naloge prepriši v notni zvezek in jih reši.

1. PO VRSTI ZAPIŠI SOLMIZACIJSKE ZLOGE.

2. NOTE POIMENUJ S SOLMIZACIJSKIMI ZLOGI.




3. PRI VSAKI NOTNI VREDNOSTI IN PAVZI ZAPIŠI, KOLIKO DOB MERI.

 meri ___ dobo


 meri ___ dobe

 meri ___ dobi


 meri ___ dobe

 meri ___ dobe

 meri ___ dobo

 meri ___ dobe

 meri ___ dobe


 meri ___ dobi

4. VSAKO NOTNO VREDNOST IN PAVZO ZA VAJO NAPIŠI 10 KRAT.


CELINKA



CELINSKA PAVZA




POLOVINKA S PIKO



POLOVINKA



POLOVINSKA PAVZA



ČETRTINKA



ČETRTINSKA PAVZA



OSMINKA Z ZASTAVICO



OSMINKI S PREČKO



OSMINSKA PAVZA



5. NA PRAZNO ČRTO NARIŠI MANJKAJOČO NOTNO VREDNOST ALI PAVZO.

$$\text{half note} + \underline{\hspace{2cm}} = \text{quarter note}$$

$$\text{quarter note} + \underline{\hspace{2cm}} = \text{half note}$$

$$\text{quarter note} + \underline{\hspace{2cm}} = \text{half note}$$

$$\text{quarter note} + \text{quarter rest} + \underline{\hspace{2cm}} = \text{quarter note}$$

$$\text{quarter note} + \text{quarter rest} + \underline{\hspace{2cm}} = \text{half note}$$

$$\text{quarter note} + \text{half rest} + \underline{\hspace{2cm}} = \text{half note}$$